




- Dans une journée il y a **24 heures**.
- Dessine les deux aiguilles sur les horloges suivantes :




00 : 00



06 : 00

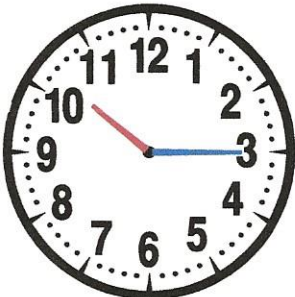


08 : 30

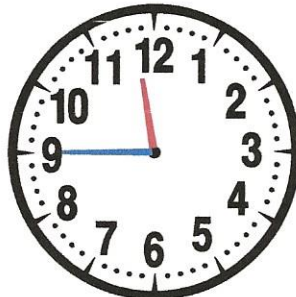


09 : 00


il est minuit

il est 6 heures du  
matinil est 8 heures et  
demie du matinil est 9 heures du  
matin

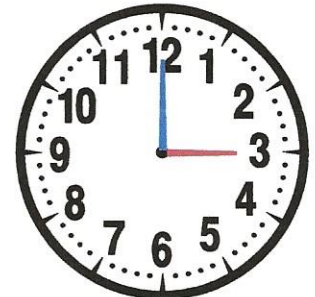
10 : 15



11 : 45




12 : 15




15 : 00

il est 10 heures et  
quartil est midi moins le  
quart

il est midi et quart

il est 3 heures de  
l'après-midi


16 : 30



20 : 50



22 : 00



00 : 00

il est quatre  
heures et demieil est 9 heures  
moins 10il est 10 heures du  
soir

il est minuit